

Actividades de Ciencias Sociales

Grado 3–5, Semana 8

Día	Tema	Páginas
Día 1	<u>Mapa del vecindario</u>	2–3
Día 2	<u>Los mapas te ayudan a comprender</u>	4–5
Día 3	<u>Conoce la India</u>	6–7
Día 4	<u>Comparar Chicago y el Ártico</u>	8–9
Día 5	<u>Descripciones soleadas</u>	10–11

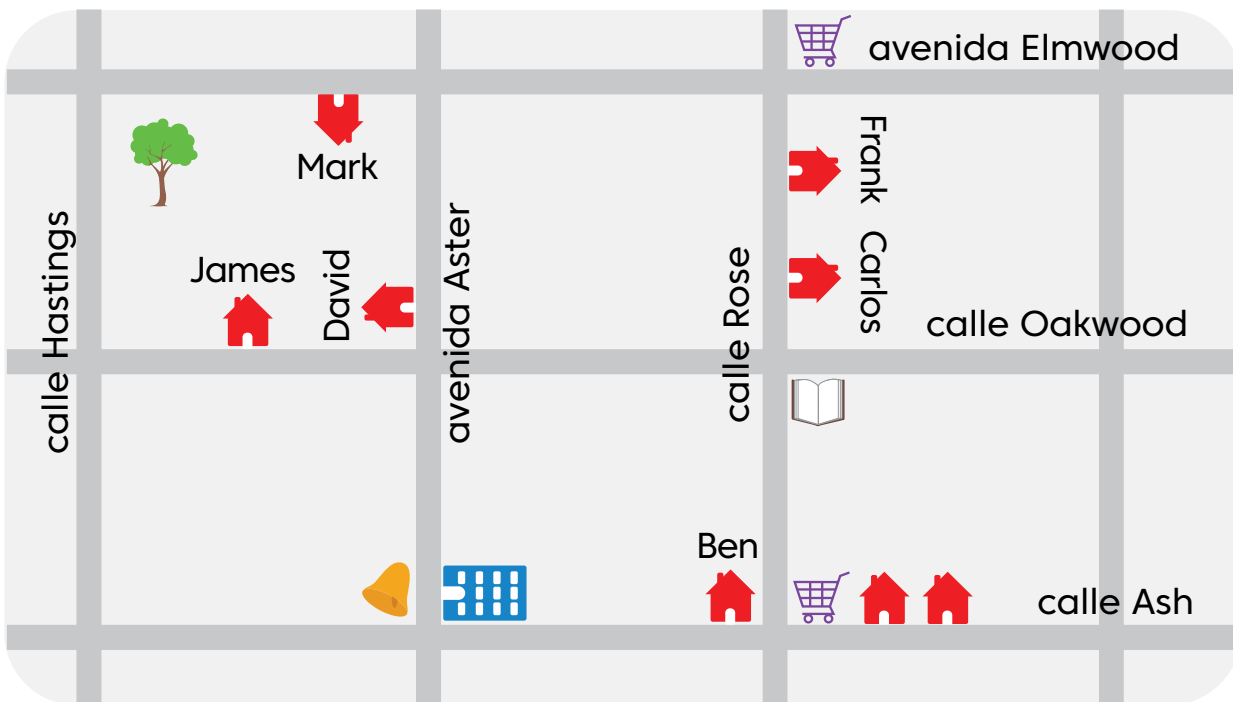
Día 1

Mapa del vecindario

Hay muchos diferentes tipos de mapas. Algunos son para espacios pequeños, como museos y parques temáticos, y otros son para espacios enormes, como el mundo o secciones del espacio exterior. Algunos mapas muestran formas terrestres naturales como montañas, lagos y océanos. Otros muestran puntos de referencia, como carreteras y pueblos, que están hechos por personas. El siguiente mapa muestra puntos de referencia en un vecindario. Tiene una clave para ayudar a explicar los símbolos en el mapa.

Examina el mapa y la clave del mapa.

El vecindario de Ben



Clave



Escuela



Edificio de apartamentos



Parque




Tienda



Casa



Biblioteca





Día 1 (continuación)

Usa el mapa, la clave y la rosa de los vientos para contestar cada pregunta.

1. ¿Qué información te entrega la clave del mapa?

2. ¿En qué calle vive Frank?

3. ¿Quién vive al oeste de la esquina de Ash y Rose?

4. ¿Hacia qué dirección necesita caminar Mark para llegar a la biblioteca?

5. ¿Qué edificio está al frente de un edificio de apartamentos?

6. ¿Hacia qué dirección está la casa de Frank de la escuela?

7. ¿Dónde está la biblioteca?

8. ¿De quién son los patios que bordean el parque?

9. ¿Quién vive al lado de Frank?





Día 2



Los mapas te ayudan a comprender

Lea el artículo sobre Camboya.

La historia temprana de Camboya

Hace mucho tiempo, la tierra en el sureste de Asia se conocía como el Imperio Khmer. El Golfo de Tailandia hizo del Imperio Khmer una parada conveniente para los barcos que viajaban entre India y China. Durante cientos de años, el río Mekong también fue importante para transportar personas y mercancías. Hoy en día todavía se usa para el transporte.



A partir de 1887, Francia gobernó lo que ahora es Camboya. Durante la Segunda Guerra Mundial, los japoneses tomaron el control. En 1953, Camboya se convirtió en un país independiente.

Después de la independencia de Camboya, siguieron años de guerra civil. Gran parte de la infraestructura del país fue destruida. La infraestructura incluye instalaciones y servicios básicos de agua, energía, transporte, comunicación, salud y educación.

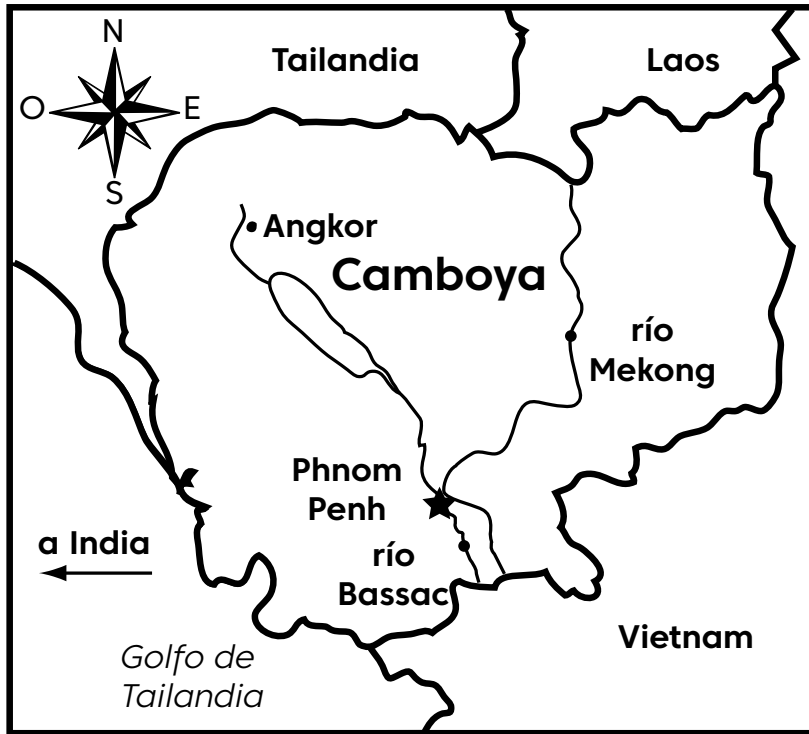
Camboya hoy en día

Hoy, Camboya está creciendo y es más pacífica. Sin embargo, Camboya aún necesita el apoyo de otros países. La ayuda de otros países permite proporcionar agua limpia a las aldeas y alimentos y ropa a las familias. Ayudan con la educación, la reconstrucción de carreteras y puentes, y la construcción de redes de comunicación. También ayuda a sacar las minas terrestres que quedaron de la guerra civil.

Muchos países y organizaciones le brindan ayuda a Camboya. Entre el 30% y el 40% del presupuesto gubernamental de Camboya proviene de la ayuda exterior.

Día 2 (continuación)

Un mapa es una función del texto que te ayuda a visualizar dónde se encuentran los lugares. Sigue las instrucciones a continuación para colorear el mapa.



1. Colorea de azul el golfo de Tailandia.
2. Colorea de azul el río Bassac y el río Mekong.
3. Encierra Phnom Penh en un círculo anaranjado.
4. Colorea verde el perímetro de Camboya.
5. Agrega montañas en el noreste.

Usa el mapa y el artículo para responder las siguientes preguntas.

1. ¿Cómo se usaban los ríos en Camboya?

2. Explica la importancia de la ubicación de Camboya.

3. Explica por qué es importante que otros países apoyen a países como Camboya.



Día 3

Conoce la India

Lee la información a continuación. Responde las preguntas mientras lees.

¿Te gusta moverte a través de coloridas multitudes de personas y tráfico? Entonces te va a gustar la India, un país en la parte sur de Asia. Tiene la segunda población más grande del mundo. Solo China tiene más habitantes.



1. ¿Qué otra palabra se refiere a habitantes? _____


Mumbai, una de las ciudades más grandes del mundo, es la ciudad más grande de la India. A pesar de tener ciudades muy grandes, la mayoría de la gente de la India vive en zonas rurales con pequeños pueblos. En estas áreas rurales, los agricultores cultivan productos y otros cultivos.

2. Describe algunas diferencias entre la ciudad y la vida rural.

Las personas que viven o visitan ciudades en la India ven una arquitectura interesante. Algunos ejemplos de la arquitectura incluyen museos y hermosos templos de las muchas religiones de la India. Los detalles arquitectónicos famosos incluyen techos curvos, “cúpulas de cebolla” y torres en cada esquina de los edificios.



3. Dibuja un edificio con los detalles arquitectónicos indicados arriba.



Día 3 (continuación)

Las familias extendidas viven juntas en muchos hogares de la India. Las familias extendidas pueden incluir primos, tías, tíos y abuelos. Los miembros de la familia comparten las tareas del hogar. Muchos ayudan con la preparación de alimentos. Las familias indias se reúnen para disfrutar las comidas juntos. Muchas familias son vegetarianas.

Todos los días comen vegetales, arroz y dal, un alimento picante hecho con frijoles o guisantes. Cada plato es como un banquete por sí mismo con tantos alimentos y sabores en 1 mismo plato. El curry, una mezcla de especias picantes, se agrega a muchos alimentos indios. El roti, un tipo de pan plano, es parte de muchas comidas.



4. Explica las similitudes y diferencias entre los alimentos que comes tú y los que comen la gente de la India.

Las familias se reúnen para celebrar las festividades de la India. Holi es fiesta al final del invierno. La gente baila y hacen desfiles de Holi para dar la bienvenida a la primavera. El Diwali es una fiesta llamada el Festival de las Luces. Las lámparas brillan intensamente y los fuegos artificiales brillan en la noche.



5. Compara las celebraciones americanas con el Holi. Explica las similitudes.

Día 4

Comparar Chicago y el Ártico

Lee el artículo a continuación. Luego usa el diagrama de Venn en la página siguiente para comparar y contrastar Chicago y el Ártico.

Chicago es una ciudad en el medio de los Estados Unidos. El Ártico incluye muchos países y la tierra y el agua alrededor del Polo Norte.

El Ártico es uno de los lugares más fríos en el mundo. La nieve y el hielo cubren el suelo la mayor parte del año. El invierno es largo, oscuro y frío. El verano es corto y, por lo general, la temperatura no sube más de los 50 ° F. No crecen árboles en el Ártico.

El Ártico esta compuesto de millones de millas cuadradas de tierra y agua. Las ciudades y los casas están muy separadas. La mayor parte del Ártico es un espacio abierto. Los aviones traen correo, comida y otros suministros. La gente usa trineos tirados por perros y motos de nieve para desplazarse.

Chicago tiene aproximadamente 227 millas cuadradas. Las casas están muy juntas y muchas personas viven en apartamentos. Las calles están llenas de automóviles, autobuses y camiones. Los trenes también ayudan a las personas a moverse por la ciudad. Los aviones transportan personas dentro y fuera de la ciudad.

El invierno en Chicago a menudo es nevoso y frío, ¡pero también puede ser soleado! ¡El verano es soleado y la temperatura puede superar los 90 ° F!

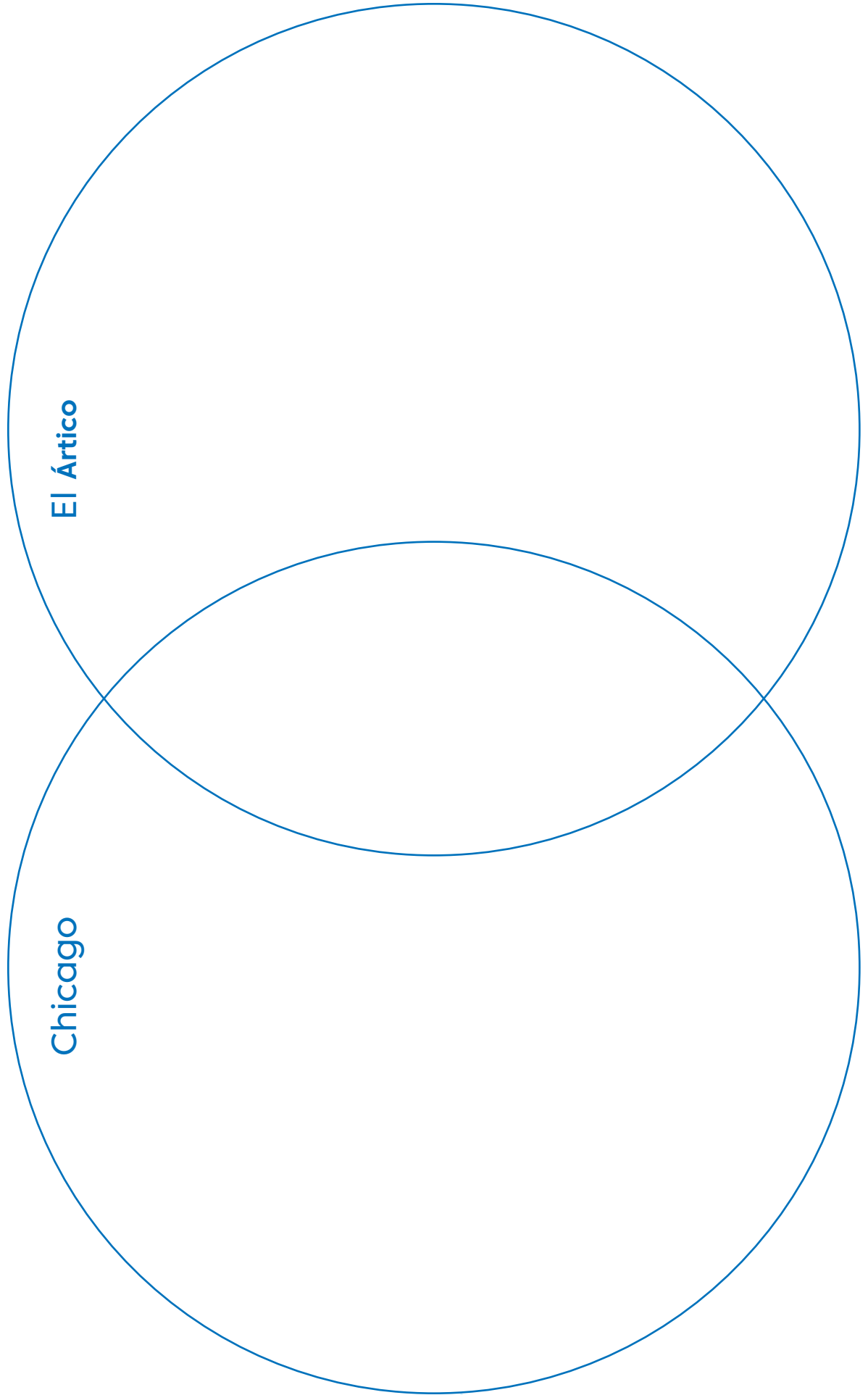




Día 4 (continuación)



Usa el siguiente diagrama de Venn para comparar cómo Chicago y el Ártico son similares y diferentes.



Día 5

Descripciones soleadas

Lee los párrafos sobre las festividades relacionadas con el sol.

Inti Raymi: Gracias por el sol

Los antiguos pueblos incas de Perú, América del Sur, adoraban al sol como un dios. Durante años, el inca celebró el sol en el día más corto del invierno. Hoy en día, cada año 1 hombre representa al emperador. Lo llevan en un trono dorado alrededor de la plaza del pueblo de la antigua capital. La multitud camina hacia una antigua fortaleza dedicada al sol y recrea una antigua ceremonia del sol. Esta tradición representa lo importante que es el sol para ellos en las frías montañas de los Andes del Perú. El sol es esencial para cultivar la cosecha que forma la base de su dieta.



Día de la Marmota: ¿Dónde está el sol?

El 2 de febrero en los Estados Unidos y Canadá, la gente espera escuchar noticias de Punxsutawney, Pennsylvania. Ahí vive una tímida marmota que es observada por miles. La tradición dice que si la marmota sale de su madriguera y ve su sombra, vamos a tener 6 semanas más de invierno. Si es un día nublado, se espera que la primavera llegue temprano.

Holi: Todos los colores bajo el sol

¡En India, la llegada de la primavera significa que es hora de mostrar tus colores! La gente canta y baila alrededor de una fogata en la noche. Al día siguiente, se tiran agua y polvos de colores para expresar su alegría por la llegada de la primavera: ¡es un nuevo comienzo, una victoria del bien sobre el mal! Toda la gente se empapa con agua de colores, entre amigos y también desconocidos mientras celebran la llegada del clima más cálido, las coloridas flores de primavera y los días soleados que vendrán.

Día 5 (continuación)

1. ¿Qué tienen en común estas 3 festividades?

2. Explica qué sucede si la marmota ve su sombra.

3. ¿Qué recrea la festividad de Inti Raymi y qué representa?

4. ¿Qué significa la llegada de la primavera para las personas que celebran Holi?

Elige una festividad diferente para investigar. Haz un dibujo para representar la festividad en el cuadro de abajo. Describe las tradiciones que se relacionan con la festividad y dónde se celebra.
