

 teach@home Actividades
de matemáticas Grado 1, Semana 4

Por Reagan Tunstall

Día	Tema	Páginas
Día 1	<u>Explorara valor posicional</u>	3–5
Día 2	<u>Comparar números</u>	6–9
Día 3	<u>Ordenar números</u>	10–11
Día 4	<u>10 Más, 10 menos</u>	12–17
Día 5	<u>Suma de números de 2-dígitos y 1-dígito</u>	18–19

Nota: algunas de la siguientes actividades requieren el uso de manipulativos o herramientas prácticas. Si no las tiene disponible en casa, visite hand2mind.com/brainingcamp para manipulativos virtuales gratuitos o puede descargar copias gratis reproducibles en hand2mindathome.com.

Use este paquete de actividades para ayudar a los niños a practicar sus habilidades matemáticas.

Para lecciones en video y recursos adicionales, visite hand2mindathome.com

Acerca de la autora

Tunstall's
TEACHING
— T I D B I T S —



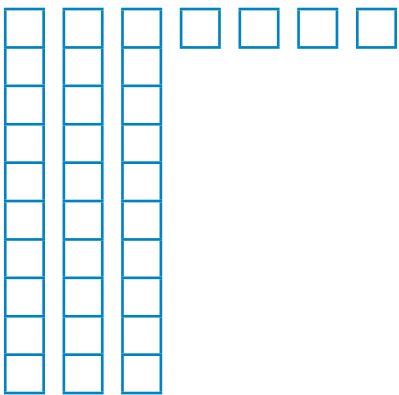
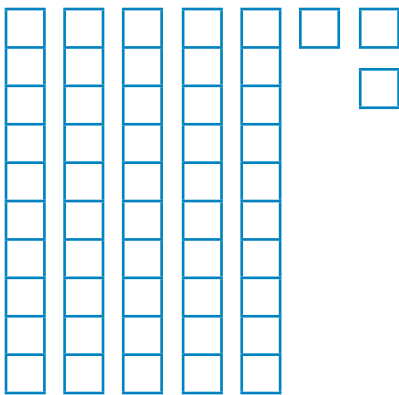
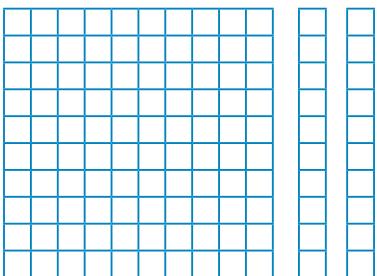
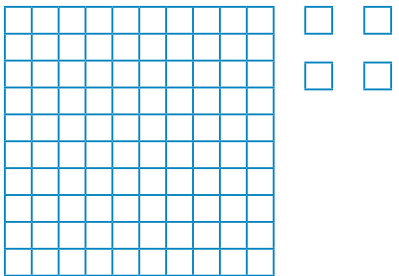
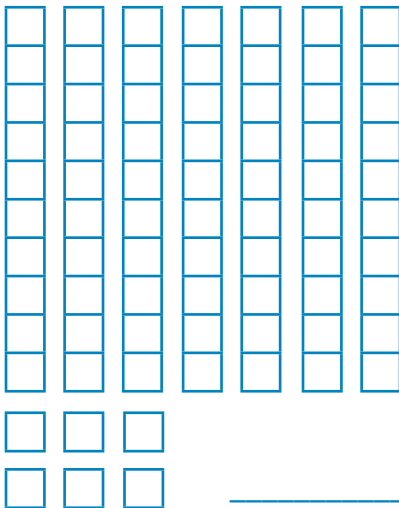
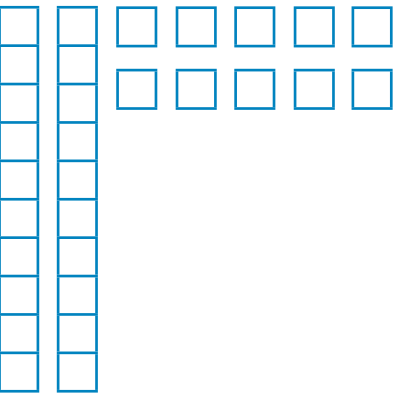



Reagan Tunstall es una consultora educativa, oradora pública y desarrolladora de recursos docentes. Con más de 18 años de experiencia docente, Reagan lidera a distritos, escuelas y maestros en la implementación de estándares matemáticos a través de prácticas matemáticas guiadas. Su pasión por la enseñanza es evidente en sus recursos que están llenos de ideas que apoyan a los maestros, y hace que los estudiantes estén motivados y sean el centro del aprendizaje.

Aprenda más sobre Reagan en su blog,
Tunstall's Teaching Tidbits.



Día 1

Escribe el número que se muestra en los Bloques de Base Diez.

 <hr/>	 <hr/>	 <hr/>
 <hr/>	 <hr/>	 <hr/>
 <hr/>	 <hr/>	 <hr/>



Día 1 (continuación)

Escribe las decenas y unidades de cada número en los espacios provistos.

	Decenas	Unidades
16		
12		
11		
18		
17		
14		
19		
15		
20		
10		
13		
16		
19		





Día 1 (continuación)

Escribe las centenas, decenas y unidades de cada número en los espacios provistos.

	Centenas	Decenas	Unidades
109			
43			
114			
23			
40			
13			
71			
85			
98			
29			
42			
102			
76			



Día 2

En el lado izquierdo, encierra la oración correcta.
En el lado derecho, escribe la oración correcta.

17 es	mayor que <u>menor que</u> igual que	19	20 es <u>mayor que</u> 19
4 es	mayor que menor que igual que	12	6 es _____ 6
18 es	mayor que menor que igual que	20	13 es _____ 14
6 es	mayor que menor que igual que	19	14 es _____ 2
8 es	mayor que menor que igual que	8	17 es _____ 17
15 es	mayor que menor que igual que	20	9 es _____ 19
12 es	mayor que menor que igual que	4	5 es _____ 10
6 es	mayor que menor que igual que	7	16 es _____ 16
9 es	mayor que menor que igual que	14	5 es _____ 13
2 es	mayor que menor que igual que	12	17 es _____ 16

Día 2 (continuación)

Completa el lado izquierdo con el símbolo correcto, Completa el lado derecho con las palabras correctas (mayor que, menor que, igual que).

97	<input type="text" value=">"/>	79	119	<input type="text" value="mayor que"/>	109
53	<input type="text"/>	36	39	<input type="text"/>	67
22	<input type="text"/>	22	25	<input type="text"/>	52
57	<input type="text"/>	97	106	<input type="text"/>	96
10	<input type="text"/>	7	88	<input type="text"/>	88
112	<input type="text"/>	104	52	<input type="text"/>	29
64	<input type="text"/>	68	76	<input type="text"/>	87
26	<input type="text"/>	34	34	<input type="text"/>	23
78	<input type="text"/>	80	107	<input type="text"/>	70
54	<input type="text"/>	54	11	<input type="text"/>	19

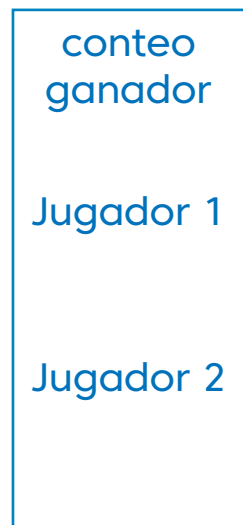
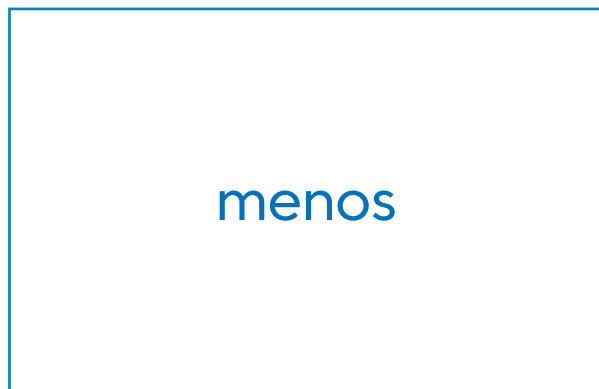
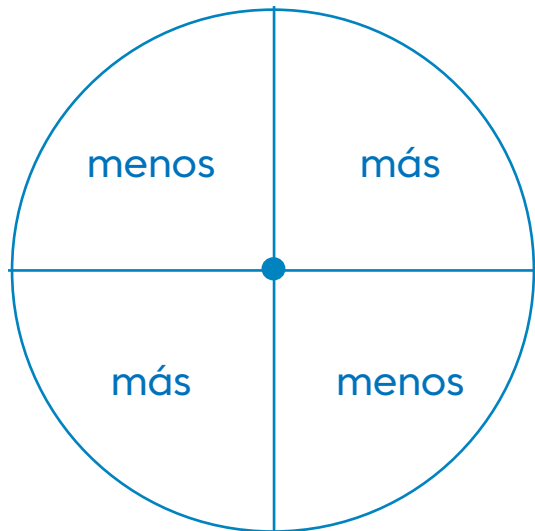


Día 2 (continuación)

Corta las tarjetas de la página siguiente y colócalas en el tablero de juego. Voltea 1 carta y ponla en la caja de menos.

Esta será la tarjeta del jugador 1. Voltea una segunda carta y ponla en la caja de más. Esta será la tarjeta del jugador 2. Luego, usa un lápiz y un clip para hacer una rueda giratoria en el círculo menos/más. Si la rueda cae en “menos” el jugador que tiene la carta con el número menor se queda con ambas cartas. Si la rueda cae en “más”, el jugador que tiene tarjeta con el número más alto se queda con ambas tarjetas.

Atrévete a comparar



Día 2 (continuación)

52

27

34

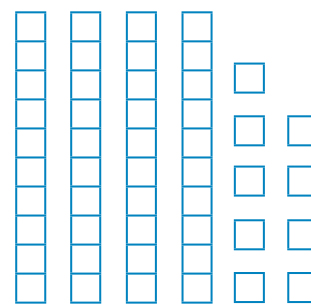
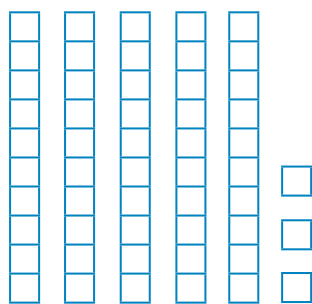
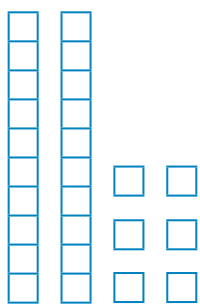
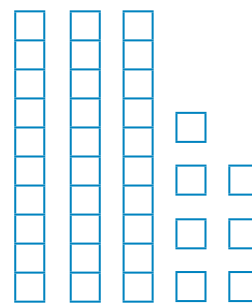
41

4 decenas
6 unidades

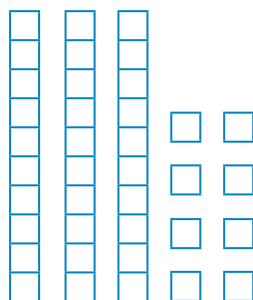
3 decenas
6 unidades

5 decenas
1 unidades

2 decenas
9 unidades



45



1 decenas
6 unidades



Día 3

Escribe los números en el orden que indica cada cuadro.

Menor a mayor 2, 18, 15, 8, 5

____, _____, _____, _____, _____

Menor a mayor 7, 12, 10, 1, 19

____, _____, _____, _____, _____

Mayor a menor 9, 4, 3, 11, 6

____, _____, _____, _____, _____

Menor a mayor 6, 8, 4, 10, 3

____, _____, _____, _____, _____

Mayor a menor 13, 16, 14, 12, 18

____, _____, _____, _____, _____

Mayor a menor 15, 16, 20, 11, 12

____, _____, _____, _____, _____

Mayor a menor 8, 18, 12, 14, 7

____, _____, _____, _____, _____

Menor a mayor 15, 4, 12, 11, 9

____, _____, _____, _____, _____

Menor a mayor 11, 15, 13, 10, 17

____, _____, _____, _____, _____

Mayor a menor 8, 12, 6, 4, 14

____, _____, _____, _____, _____

Menor a mayor 19, 18, 20, 13, 16

____, _____, _____, _____, _____

Mayor a menor 7, 4, 9, 10, 3

____, _____, _____, _____, _____



Día 3 (continuación)

Escribe los números en el orden que indica cada cuadro.

Menor a mayor

97, 34, 86, 110, 59

_____, _____, _____, _____, _____

Mayor a menor

48, 69, 37, 52, 43

_____, _____, _____, _____, _____

Menor a mayor

77, 47, 97, 67, 107

_____, _____, _____, _____, _____

Menor a mayor

105, 106, 98, 76, 114

_____, _____, _____, _____, _____

Mayor a menor

54, 92, 74, 68, 39

_____, _____, _____, _____, _____

Menor a mayor

25, 29, 12, 11, 9

_____, _____, _____, _____, _____

Menor a mayor

106, 89, 99, 103, 100

_____, _____, _____, _____, _____

Mayor a menor

69, 72, 91, 58, 93

_____, _____, _____, _____, _____

Mayor a menor

57, 79, 90, 48, 47

_____, _____, _____, _____, _____

Menor a mayor

49, 38, 50, 23, 16

_____, _____, _____, _____, _____

Mayor a menor

110, 120, 109, 104, 118

_____, _____, _____, _____, _____

Mayor a menor

117, 119, 114, 101, 110

_____, _____, _____, _____, _____



Día 4

Completa los números que faltan. Los números que van de arriba hacia abajo van por decenas. Los números que van de lado a lado van por unidades.

<div style="text-align: center;"> <div style="border: 1px solid black; width: 40px; height: 40px; margin: 0 auto 10px auto;">35</div> <div style="display: flex; justify-content: space-around; align-items: center;"> <div style="border: 1px solid black; width: 40px; height: 40px;"></div> <div style="border: 1px solid black; width: 40px; height: 40px; text-align: center;">45</div> <div style="border: 1px solid black; width: 40px; height: 40px; text-align: center;">46</div> </div> <div style="border: 1px solid black; width: 40px; height: 40px; margin: 10px auto;"></div> </div>	<div style="text-align: center;"> <div style="border: 1px solid black; width: 40px; height: 40px; margin: 0 auto 10px auto;"></div> <div style="display: flex; justify-content: space-around; align-items: center;"> <div style="border: 1px solid black; width: 40px; height: 40px; text-align: center;">52</div> <div style="border: 1px solid black; width: 40px; height: 40px;"></div> <div style="border: 1px solid black; width: 40px; height: 40px; text-align: center;">54</div> </div> <div style="border: 1px solid black; width: 40px; height: 40px; margin: 10px auto;"></div> </div>	<div style="text-align: center;"> <div style="border: 1px solid black; width: 40px; height: 40px; margin: 0 auto 10px auto;">39</div> <div style="display: flex; justify-content: space-around; align-items: center;"> <div style="border: 1px solid black; width: 40px; height: 40px; text-align: center;">48</div> <div style="border: 1px solid black; width: 40px; height: 40px;"></div> <div style="border: 1px solid black; width: 40px; height: 40px;"></div> </div> <div style="border: 1px solid black; width: 40px; height: 40px; margin: 10px auto;"></div> </div>
<div style="text-align: center;"> <div style="border: 1px solid black; width: 40px; height: 40px; margin: 0 auto 10px auto;"></div> <div style="display: flex; justify-content: space-around; align-items: center;"> <div style="border: 1px solid black; width: 40px; height: 40px;"></div> <div style="border: 1px solid black; width: 40px; height: 40px;"></div> <div style="border: 1px solid black; width: 40px; height: 40px; text-align: center;">92</div> </div> <div style="border: 1px solid black; width: 40px; height: 40px; margin: 10px auto; text-align: center;">101</div> </div>	<div style="text-align: center;"> <div style="border: 1px solid black; width: 40px; height: 40px; margin: 0 auto 10px auto;">96</div> <div style="display: flex; justify-content: space-around; align-items: center;"> <div style="border: 1px solid black; width: 40px; height: 40px;"></div> <div style="border: 1px solid black; width: 40px; height: 40px; text-align: center;">106</div> <div style="border: 1px solid black; width: 40px; height: 40px;"></div> </div> <div style="border: 1px solid black; width: 40px; height: 40px; margin: 10px auto;"></div> </div>	<div style="text-align: center;"> <div style="border: 1px solid black; width: 40px; height: 40px; margin: 0 auto 10px auto;"></div> <div style="display: flex; justify-content: space-around; align-items: center;"> <div style="border: 1px solid black; width: 40px; height: 40px; text-align: center;">76</div> <div style="border: 1px solid black; width: 40px; height: 40px; text-align: center;">77</div> <div style="border: 1px solid black; width: 40px; height: 40px;"></div> </div> <div style="border: 1px solid black; width: 40px; height: 40px; margin: 10px auto;"></div> </div>
<div style="text-align: center;"> <div style="border: 1px solid black; width: 40px; height: 40px; margin: 0 auto 10px auto;"></div> <div style="display: flex; justify-content: space-around; align-items: center;"> <div style="border: 1px solid black; width: 40px; height: 40px;"></div> <div style="border: 1px solid black; width: 40px; height: 40px; text-align: center;">32</div> <div style="border: 1px solid black; width: 40px; height: 40px;"></div> </div> <div style="border: 1px solid black; width: 40px; height: 40px; margin: 10px auto;"></div> </div>	<div style="text-align: center;"> <div style="border: 1px solid black; width: 40px; height: 40px; margin: 0 auto 10px auto;">64</div> <div style="display: flex; justify-content: space-around; align-items: center;"> <div style="border: 1px solid black; width: 40px; height: 40px;"></div> <div style="border: 1px solid black; width: 40px; height: 40px;"></div> <div style="border: 1px solid black; width: 40px; height: 40px;"></div> </div> <div style="border: 1px solid black; width: 40px; height: 40px; margin: 10px auto;"></div> </div>	<div style="text-align: center;"> <div style="border: 1px solid black; width: 40px; height: 40px; margin: 0 auto 10px auto;"></div> <div style="display: flex; justify-content: space-around; align-items: center;"> <div style="border: 1px solid black; width: 40px; height: 40px;"></div> <div style="border: 1px solid black; width: 40px; height: 40px;"></div> <div style="border: 1px solid black; width: 40px; height: 40px;"></div> </div> <div style="border: 1px solid black; width: 40px; height: 40px; margin: 10px auto; text-align: center;">108</div> </div>



Día 4 (continuación)

Escribe el número que es diez menos y el número que es diez más.

diez menos	42	diez más
------------	----	----------

diez menos	75	diez más
------------	----	----------

diez menos	19	diez más
------------	----	----------

diez menos	48	diez más
------------	----	----------

diez menos	31	diez más
------------	----	----------

diez menos	70	diez más
------------	----	----------

diez menos	11	diez más
------------	----	----------

diez menos	64	diez más
------------	----	----------

diez menos	84	diez más
------------	----	----------

diez menos	28	diez más
------------	----	----------

diez menos	63	diez más
------------	----	----------

diez menos	99	diez más
------------	----	----------

diez menos	57	diez más
------------	----	----------

diez menos	103	diez más
------------	-----	----------

diez menos	16	diez más
------------	----	----------

diez menos	41	diez más
------------	----	----------

diez menos	99	diez más
------------	----	----------

diez menos	87	diez más
------------	----	----------



Día 4 (continuación)

Cuenta los Bloques de Base Diez. Luego, escribe el número que es 10 más dentro del círculo.



Día 4 (continuación)


Cuentas los Bloque de Base Diez. Luego, escribe el número que es 10 menos dentro del círculo.



Día 4 (continuación)

Dibuja una línea desde cada número en la parte superior a la bola de lana que indica 10 más.

16 45 81 57 12 43 24 39 94 70

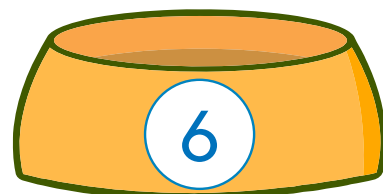







Día 4 (continuación)

Dibuja una línea desde cada número en la parte superior al plato de perro que indica 10 menos.

16 45 81 77 32 63 44 59 120 70



Día 5

Suma los números usando decenas y unidades. Escribe la suma.

$10 + 3 =$	$3 + 20 =$
$40 + 6 =$	$50 + 4 =$
$8 + 20 =$	$4 + 60 =$
$33 + 10 =$	$6 + 70 =$
$10 + 9 =$	$10 + 8 =$
$80 + 4 =$	$5 + 90 =$
$40 + 3 =$	$7 + 30 =$
$3 + 20 =$	$20 + 8 =$
$20 + 7 =$	$40 + 9 =$



Día 5 (continuación)

Escuenta la suma.

$6 + 62 =$	$73 + 5 =$
$34 + 4 =$	$8 + 91 =$
$47 + 2 =$	$1 + 77 =$
$15 + 3 =$	$50 + 7 =$
$9 + 61 =$	$28 + 0 =$
$88 + 2 =$	$7 + 52 =$
$3 + 36 =$	$29 + 1 =$
$74 + 3 =$	$9 + 60 =$
$4 + 33 =$	$95 + 3 =$
$81 + 7 =$	$6 + 41 =$